




Karta badania osiągnięć ucznia (wersja łatwiejsza)

1. Mamy pory roku. Czy potrafisz je nazwać? Pomogą ci obrazki!



2. Masz przed sobą dwa termometry. Napisz w jakiej porze roku mogą wskazywać taką temperaturę?



3. Bardzo lubimy pierwsze wiosenne kwiaty. Czy potrafisz nazwać je i podać ich kolory? Możesz skorzystać z ramki!



tulipan

krokus

fiołek


konwalia

żonkil

żółty, fioletowy, czerwony, biały, różowy, pomarańczowy, niebieski

Karta badania osiągnięć ucznia (wersja łatwiejsza)

4. Wiosną przyroda budzi się do życia. Na obrazkach są przedmioty używane w ogródku. Odszukaj ich nazwy w ramce i dopisz jakie czynności nimi się wykonuje?



grabie, konewka, łopata, motyka, kolec

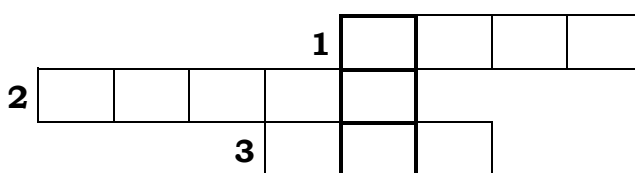
sadzimy, kopujemy, grabimy, podlewamy, pielimy

5. Jak myślisz, czego brakowało roślince do życia?




6. Wiosną bardzo lubimy chodzić na wycieczki. Dokąd poszliśmy podpowie Wam krzyżówka.

1. Latem dla ochłody zimne...
2. Miętowa do mycia zębów.
3. Lata koło nosa.




Poszliśmy do _____ .

7. Spotkaliśmy tam wiele ciekawych zwierząt. Obok ssaków wpisz w okienko **S**, a obok ptaków **P**.



8. Gdy wracaliśmy, popatrzyliśmy jeszcze na las z daleka. Próbowaliśmy wymienić jego warstwy. Nie mieliśmy już kłopotów, a czy ty potrafisz je nazwać?



podszyt, runo leśne, drzewa wysokie, ściółka leśna

9. Wiele ptaków wraca wiosną do swoich gniazd. Czy potrafisz im strzałką wskazać drogę?



10. Już myślimy o lecie. Wielu z was wyjedzie na wakacje. Który z pojazdów jest najszybszym środkiem transportu?



Najszybszy jest _____.

Wolniej jedzie _____.

Najwolniej porusza się _____.

11. Ja byłam w ubiegłym roku z rodzicami w mieście, o powstaniu którego dowiedziałam się czytając legendę pt. „Wars i Sawa”.


Czy już wiesz co to za miasto?

Tak, to jest _____.

To nasza _____.

Warszawa, stolica


12. Czy pamiętacie co jest herbem Warszawy?




13. Wyjechaliśmy 5 lipca rano, a wróciliśmy po 7 dniach wieczorem. Jaka była wtedy kartka w kalendarzu?



14. Najdłużej zwiedzaliśmy Pałac Kultury i Nauki. Gdy weszliśmy była godzina:



a wyszliśmy o



Odgadnij, jak długo tam byliśmy?

W Pałacu Kultury i Nauki byliście _____ godz. i _____ minut.

15. Na podstawie legend, czytanek i wierszy poznaliśmy nasze symbole narodowe.
Spróbuj dokończyć zdania i pokoloruj rysunki!

Naszym godłem jest _____.

Polskie barwy narodowe to: _____.

„Mazurek Dąbrowskiego” to nasz _____.

Ja jestem _____ . Mój brat jest _____.



biel i czerwień, hymn narodowy, Orzeł Biały w koronie, Polką

16. Miałam napisać opowiadanie o wakacjach. Zabaw się w nauczyciela i popraw je.

Chyba zapomniałam o wielkich literach, kropkach i w niektórych wyrazach zgubiłam literki.

w czasie wakacji byłam w warszawie potem pojechałam do babci
wyje _ działam z w _ jkiem nad jezioro byłam też u kole _ anki w _ esznie
__ odżyliśmy na basen było cudownie

17. Niestety wakacje się kończyły i nadszedł czas, aby pomyśleć o zakupach szkolnych. Mama kupiła mi zeszyty za 34 zł, piórnik za 23 zł, podręczniki za 298 zł.

Pomóż mi obliczyć, ile zapłaciła moja mama?



34 zł



23 zł



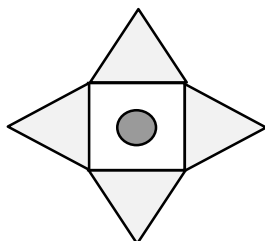
298 zł

Obliczenia: _____

Twoja mama zapłaciła _____ zł.

18. Nareszcie nadeszła upragniona zima.

Michał wymyślił ciekawą zabawę. Narysował płatek śniegu.



Z jakich podstawowych figur składa się ten płatek ?

Ja myślę, że z: _____ , _____ , _____ .

19. Na zakończenie pani napisała na tablicy strasznie trudne zadanie. Mieliśmy uzupełnić zdania odpowiednio używając wyrazy:

dłuższy, krótszy, dłuższa, krótsza

Zimą noc jest _____, a dzień _____.

Latem dzień jest _____, a noc _____.

Prawda, że to nie było takie trudne!

Myślę, że to oraz wszystkie inne zadania nie sprawiły Ci trudności !

Jeżeli masz jeszcze czas i ochotę możesz pokolorować pozostałe obrazki.

Serdecznie gratuluję i życzę powodzenia w czwartej klasie!

PUNKTACJA SZCZEGÓŁOWA**DO ZESTAWU PYTAŃ**

Numer zadania	P o l e c e n i a	Punkty razem
1.	Za uzupełnienie okienka oraz poprawne podpisanie obrazków.	4 pkt.
2.	Prawidłowe podpisy pod termometrami	2 pkt.
3.	Nazwy kwiatów Dopasowanie kolorów	4 pkt. 5 pkt.
4.	Prawidłowe nazwy przyborów. Odpowiednie dopasowanie czynności.	5 pkt. 5 pkt.
5.	Za każdy wymieniony element po jednym punkcie	3 pkt.
6.	Za wpisanie haseł Za uzupełnienie zdania	3 pkt. 1 pkt.
7.	Prawidłowe oznaczenie ptaków. Prawidłowe oznaczenie ssaków.	4 pkt. 4 pkt.
8.	Poprawne nazwanie warstw lasu	4 pkt.
9.	Wskazanie ptakom drogi.	6 pkt.
10.	Poprawnie wymienione środki lokomocji	3 pkt.
11.	Prawidłowo dobrane wyrazy.	2 pkt.
12.	Poprawna odpowiedź (jednym wyrazem lub zdaniem)	1 pkt.
13.	Prawidłowa data	1 pkt.
14.	Prawidłowo wpisana godzina i minuty	2 pkt.
15.	Poprawnie uzupełnione zdania	5 pkt.
16.	Prawidłowo poprawiony tekst	17 pkt.
17.	Poprawny wynik (wystarczy jeden sposób) Uzupełnienie odpowiedzi	2 pkt. 1 pkt.
18.	Za jedną z prawidłowych (pełnych) odpowiedzi	3 pkt.
19.	Poprawnie uzupełnione zdania	4 pkt.
	RAZEM:	91 pkt.

KARTA ODPOWIEDZI

1. Mamy 4 pory roku.
wiosna, lato zima, jesień
2. termometry : zima , lato
3. **Nazwy kwiatów** : krokus, tulipan, żonkil, fiołek, konwalia
Nazwy kolorów : pomarańczowy, czerwony, żółty, fioletowy, biały.
4. Kolejność dowolna, ale nazwy przedmiotów muszą odpowiadać czynnościom np.

kolec – sadzimy
konewka – podlewamy
łopata – kopujemy
grabie – grabimy
motyka – pielimy
5. **wody, słońca (ciepła), ziemi**
6. **lody** **L**
pasta **A**
osa **S**
- Poszliśmy do lasu.
7. Cztery litery P, cztery litery S
8. **drzewa wysokie**
podszyt
runo leśne
ściółka leśna
9. Każdy ptaszek musi dolecieć do swojego domku z prawidłowym wynikiem.
10. **samolot**
samochód (auto)
rower
11. **Warszawa**
stolica
12. **Syrenka** lub zdanie **Herbem Warszawy jest Syrenka.**
(obydwie odpowiedzi należy uznać za prawidłowe)
13. Powinna być data **11 Lipiec**
14. **3 godz. i 15 min.**

15. Orzeł Biały w koronie.

biel i czerwień.

hymn narodowy.

Polką.

Polakiem.

16. Prawidłowo poprawiony tekst opowiadania:

W czasie wakacji byłam w Warszawie. Potem pojechałam do babci.

Wyjeżdżałam z wujkiem nad jezioro. Bylam też u koleżanki w Lesznie.

Chodziłyśmy na basen. Było cudownie !

17. Sposób obliczenia dowolny (wystarczy jeden).

Wynik powinien równać się : **355 zł.**

Odpowiedź : **Twoja mama zapłaciła 355 zł.**

18. Ja myślę, że z : **4 trójkątów, kwadratu , koła.**

Można też uznać odpowiedź:

Ja myślę, że z : **trójkątów, kwadratu , koła.**

19. Zimą noc jest **dłuższa**, a dzień **krótszy**.

Latem dzień jest **dłuższy**, a noc **krótsza**.

Za każde poprawnie rozwiązane zadanie, bez względu na ilość wykonywanych poleceń, stawiamy uczniowi 1 punkt.

Za błędnie wykonane zadania stawiamy 0 punktu.

Tak więc uczeń może uzyskać maksymalnie 19 punktów.

Zestawienie końcowe

Zadanie	Max ilość pkt.	Ilość uzyskanych pkt.	%
1			
2			
3			
4			
5			
6			
7			
8			
9			
10			
11			
12			
13			
14			
15			
16			
17			
18			
19			
Łącznie			

